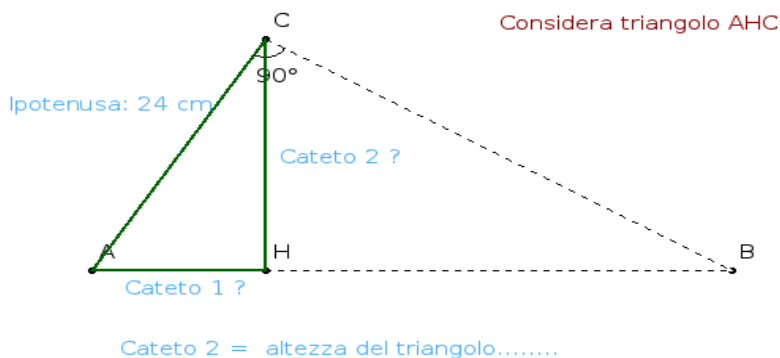
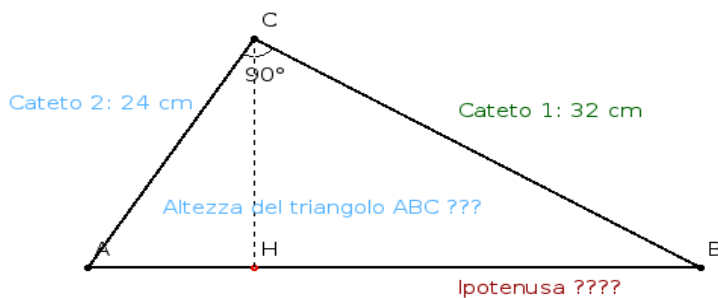
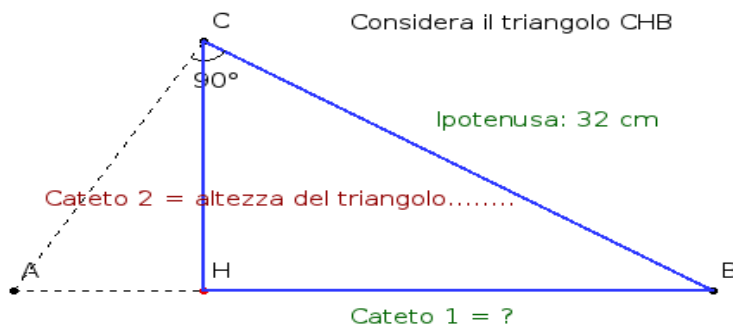


●●● Un triangolo rettangolo ha i cateti che misurano rispettivamente 32 cm e 24 cm. Calcola il perimetro di ciascuno dei due triangoli in cui quello dato risulta diviso dall'altezza relativa all'ipotenusa. [76,8 cm; 57,6 cm]



Calcola il perimetro del triangolo verde



Calcolare il perimetro del triangolo evidenziato in blu